

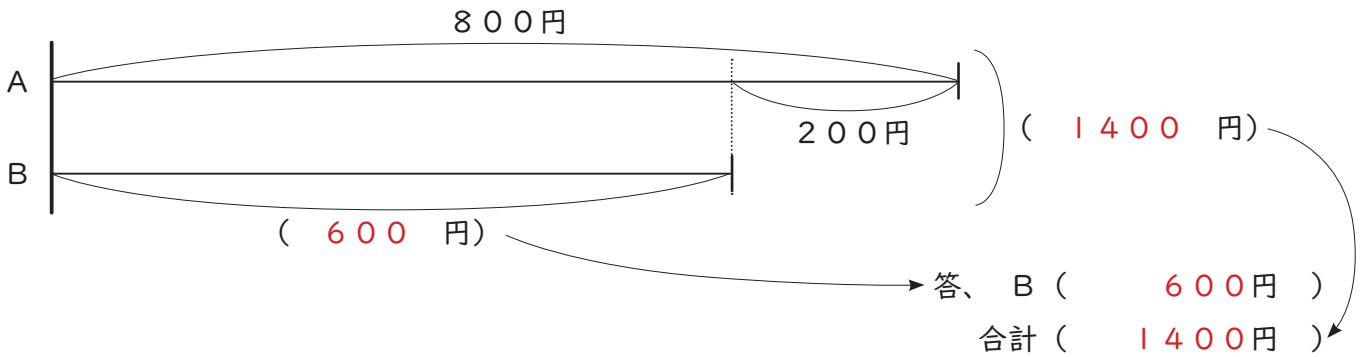
月 日 氏名 解 答

80 点で合格 80 点未満の人は、「サイパー思考力算数練習帳シリーズ3 和差算・分配算」を学習しましょう。

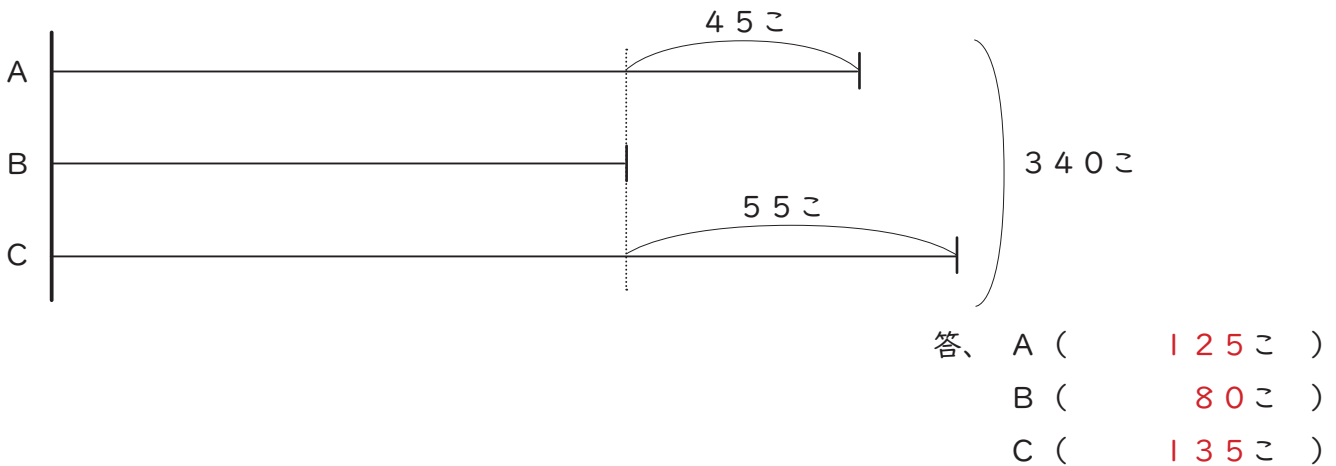
点

1、^{せんぶんず}線分図を ^み見て、() に ^{あてはまる}あてはまる ^{かず}数を ^{もとめなさい}もとめなさい。(10点×2)

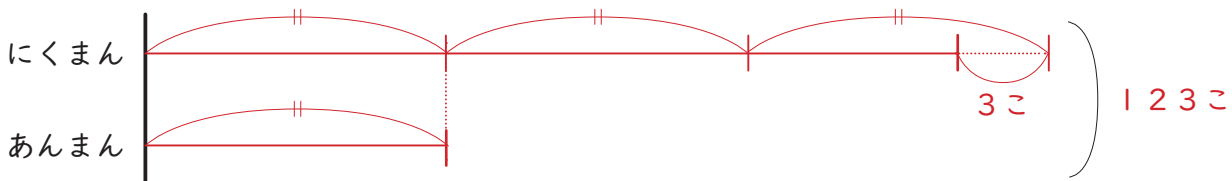
①



②

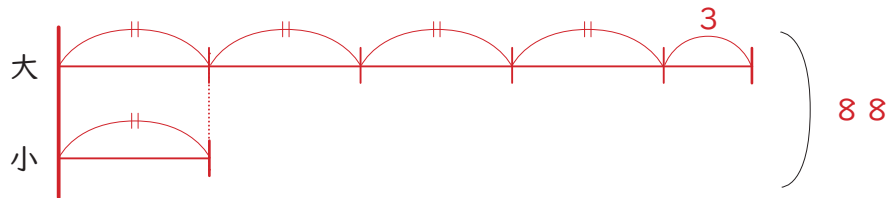


2、にくまんと あんまんが ^あ合わせて 123こ ^{かず}あります。また、あんまんの ^{せんぶんず}数は ^かにくまんの ^{ばい}数の 3倍より 3こ ^{すく}少ないです。線分図を ^か書きましょう。(10点)



3、^{つぎ}次の ^{もんだい}問題を ^{せんぶんず}ときましょう。線分図の ^か書いてない問題は、線分図も ^か書きましょう。(10点×7)

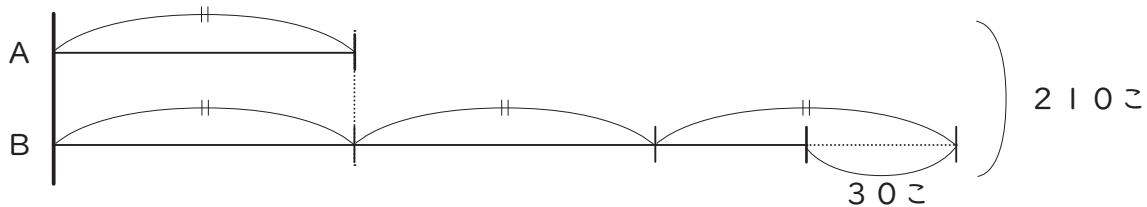
- ①、大・小2つの 数が あります。大きい数と 小さい数の 和は88で、大きい数を 小さい数
でわると、商が 4で あまりが3に なります。この 2つの数を もとめなさい。



式・考え方

答、大 (71)
小 (17)

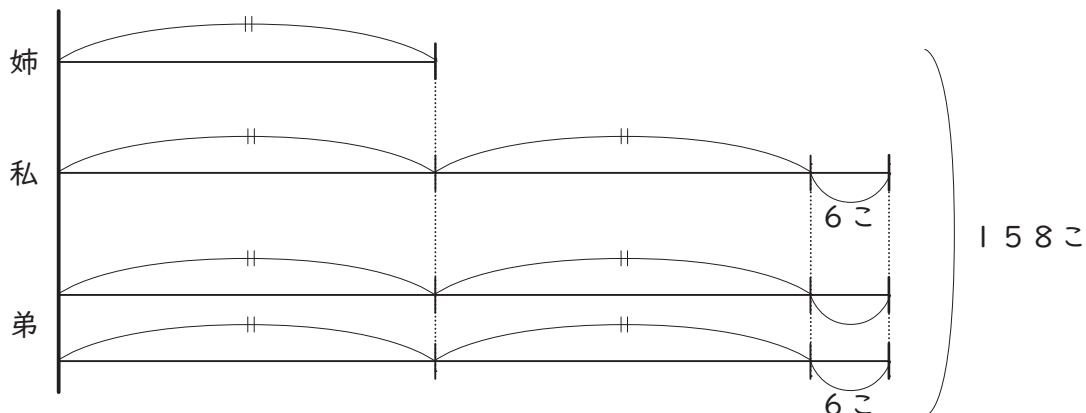
- ②、210この チョコレートを、A、Bの 2つの はこに 入れます。Bが Aの 3倍よりも
30こ 少なくなるように します。2つの はこに、それぞれ 何こ 入れると よいでしょうか。



式・考え方

答、A (60)
B (150)

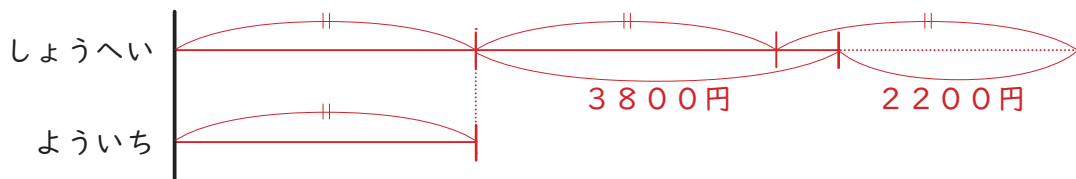
- ③、158この おはじきを、^{あね}姉・^{わたし}私・^{おとうと}弟の 3人で 分けます。私は ^{ばい}姉の 2倍よりも 6こ
^{おお}多く もらいます。また 弟は、私の 2倍 もらいます。3人は それぞれ ^{なん}何こ もらえますか。



式・考え方

答、姉 (20こ)
私 (46こ)
弟 (92こ)

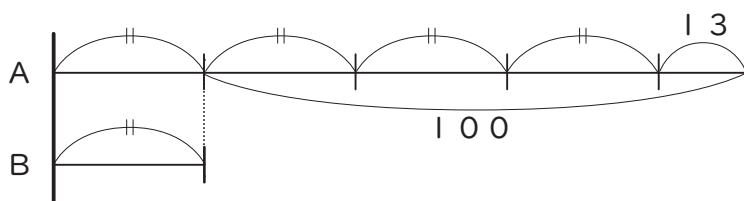
④、しょうへい君の ちょ金は、よういち君の 3倍より 2200円 少ないです。また しょうへい君の ちょ金は、よういち君の ちょ金より 3800円 多いそうです。2人の ちょ金はそれぞれ 何円ですか。



式・考え方

答、しょうへい (6800円)
よういち (3000円)

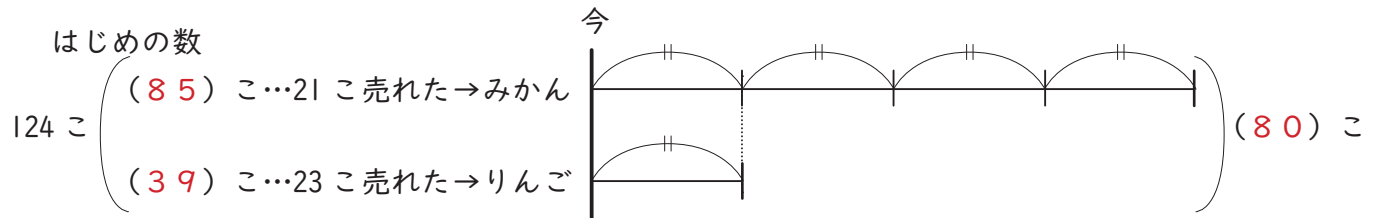
⑤、A・Bの 2つの 数が あります。2つの 数の 差は 100で、Aを Bで 割ると、商が 4で あまりが 13に なりました。それぞれ 2つの 数を もとめなさい。



式・考え方

答、A (129円)
B (29円)

⑥、みかんと りんごが 合わせて 124こ ありました。今、みかんが 21こ と りんごが 23こ 売れたので、みかんの 数は りんごの 数の ちょうど 4倍に なりました。はじめに、みかん・りんごは それぞれ 何こずつ ありましたか。

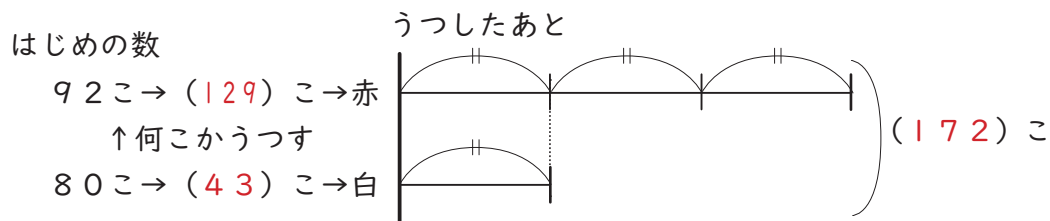


式・考え方

答、みかん (85こ)

りんご (39こ)

⑦、赤・白 2つの はこが あります。ボールが 赤の はこには 92こ、白の はこには 80こ 入っています。白の はこから 赤の はこに 何こ うつすと、赤の はこの ボールの 数が 白の はこの ボールの 数の 3倍に なりますか。



式・考え方

答、 (37こ)