

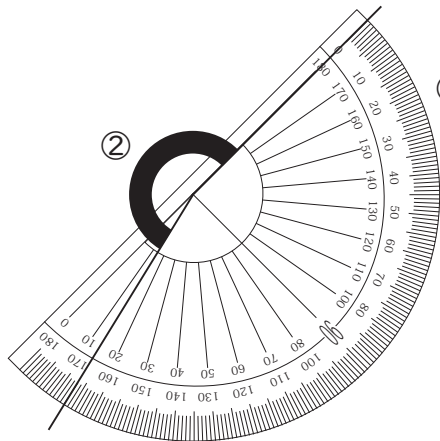
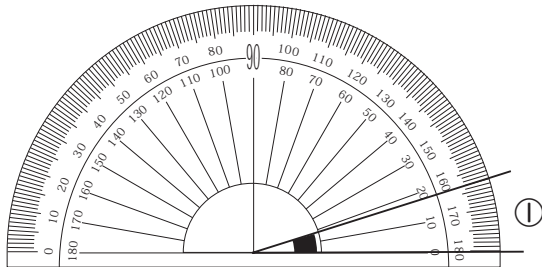
シリーズ38 角度 チェックテスト 1/2

月 日 氏名 \_\_\_\_\_

80 点で合格 80 点未満の人は、「サイパー思考力算数練習帳シリーズ38 角度」を学習しましょう。

点

1、それぞれ、角度を答えなさい。(8点×2)

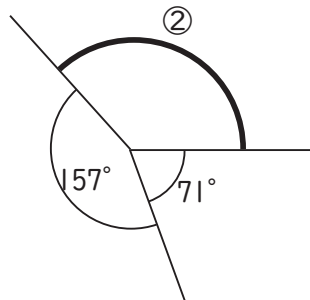
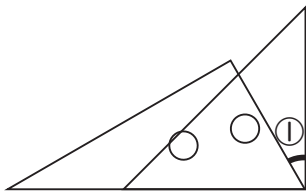


①、 \_\_\_\_\_ °

②、 \_\_\_\_\_ °

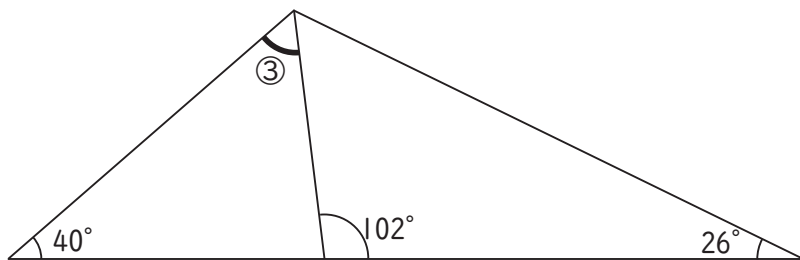
2、それぞれ、角度を求めなさい。(8点×6)

三角定規を2つ重ねたもの

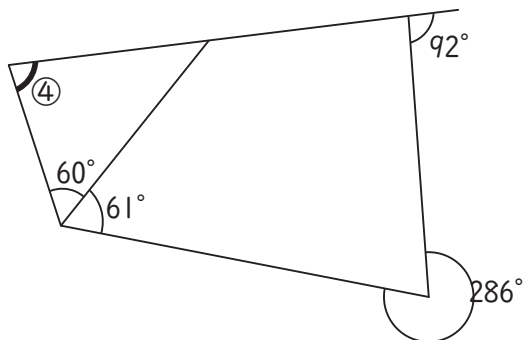


①、 \_\_\_\_\_ °

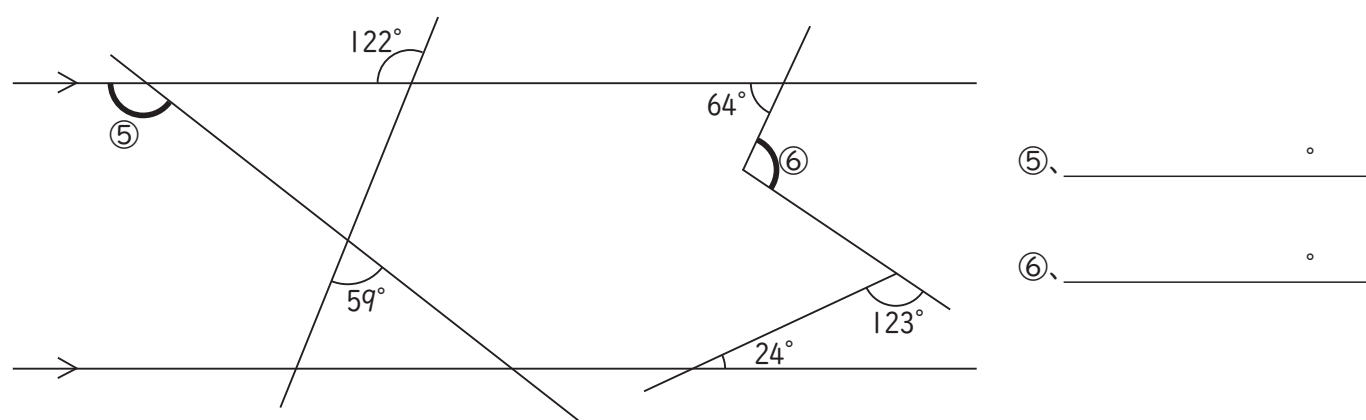
②、 \_\_\_\_\_ °



③、 \_\_\_\_\_ °



④、 \_\_\_\_\_ °



3、次の時刻の時に、長針と短針のなす角度の小さい方を答えなさい。（下の文字盤は、自由に使って  
よろしい）（9点×4）

- ①、7時      ②、2時15分      ③、9時17分      ④、11時41分

