



月 日 氏名 _____

80点で合格 80点未満の人は、「サイパー思考力算数練習帳シリーズ39 面積 上」を学習しましょう。



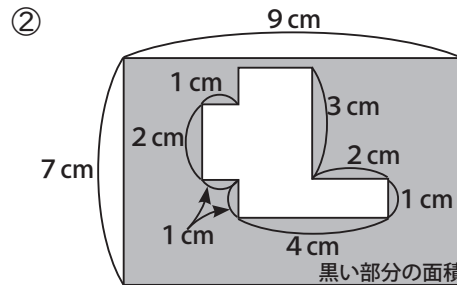
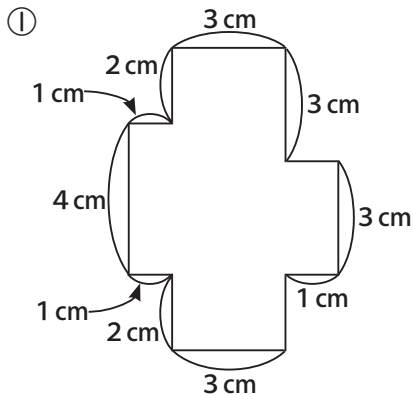
1、小さい正方形が 1cm^2 の時、次の形の面積を求めなさい。(10点×2)



①、_____ cm^2

②、_____ cm^2

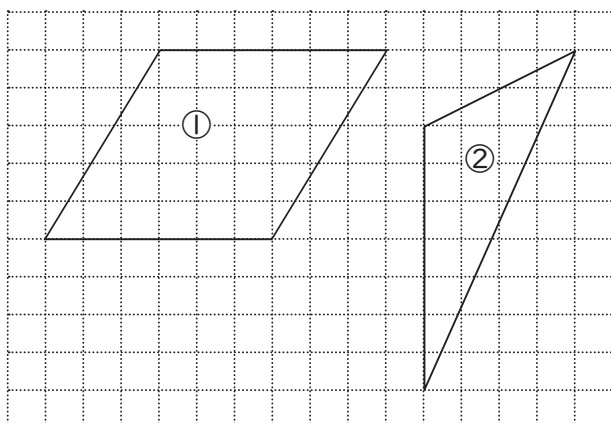
2、それぞれ、面積を求めなさい。(角は全て直角です) (10点×2)



①、_____ cm^2

②、_____ cm^2

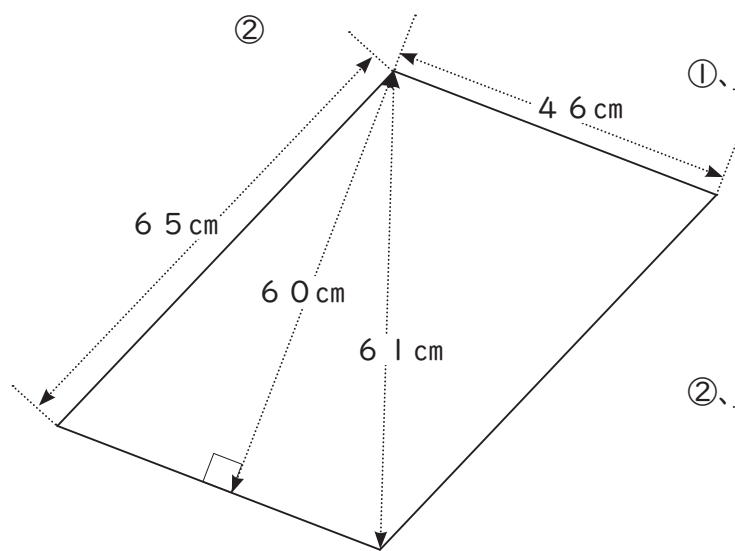
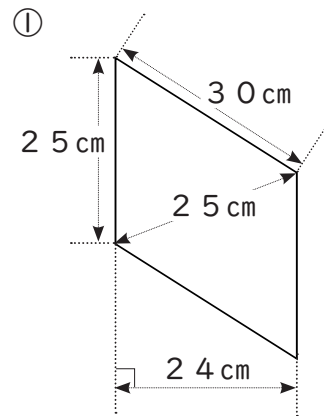
3、 1cm^2 の方眼の上にかかれた平行四辺形と三角形の面積を求めなさい。(10点×2)



①、_____ cm^2

②、_____ cm^2

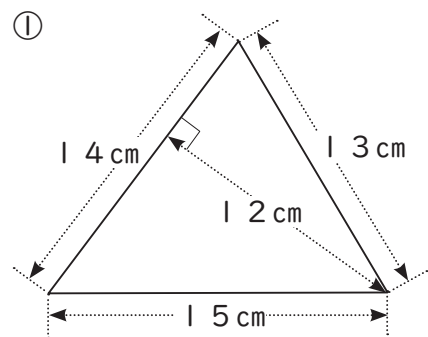
4、平行四辺形の面積を求めなさい。(10 点× 2)



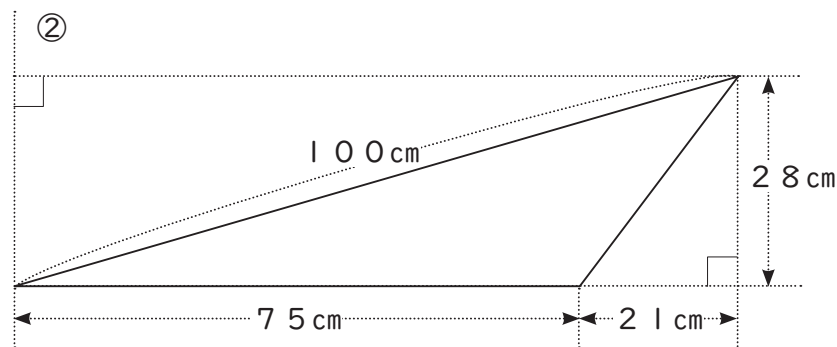
①、_____ cm^2

②、_____ cm^2

5、三角形の面積を求めなさい。(10 点× 2)



①、_____ cm^2



②、_____ cm^2